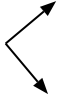




Determine if the angle shown is 'less', 'more' or 'equal' to 90°.

**Answers**

Ex)



1)



2)



Ex. equal

1. \_\_\_\_\_

2. \_\_\_\_\_

3)



4)



5)



3. \_\_\_\_\_

4. \_\_\_\_\_

5. \_\_\_\_\_

6)



7)



8)



6. \_\_\_\_\_

7. \_\_\_\_\_

8. \_\_\_\_\_

9)



10)



11)



9. \_\_\_\_\_

10. \_\_\_\_\_

11. \_\_\_\_\_

12)



13)



14)



12. \_\_\_\_\_

13. \_\_\_\_\_

14. \_\_\_\_\_

15)



16)



17)



15. \_\_\_\_\_

16. \_\_\_\_\_

17. \_\_\_\_\_

18)



19)



20)



18. \_\_\_\_\_

19. \_\_\_\_\_

20. \_\_\_\_\_



Determine if the angle shown is 'less', 'more' or 'equal' to 90°.

Ex)



1)




2)



Ex. equal

3)



4)



5)



1. more

2. less

3. more

4. less

5. less

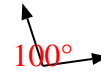
6)



7)



8)



6. more

7. equal

8. more

9)



10)



11)



9. equal

10. less

11. equal

12)



13)



14)



12. less

13. less

14. more

15)



16)



17)



15. less

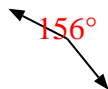
16. equal

17. equal

18)



19)



20)



18. less

19. more

20. equal